



Maths CP: se déplacer sur une bande numérique

Léa et Théo comptent de 2 en 2. **Complète** leur bande numérique.




Mélissa compte de 3 en 3. **Complète** sa bande numérique.



Maths CP: se déplacer sur une bande numérique


1 Compte de 2 en 2. **Complète** les cases blanches.



2 Compte de 3 en 3. **Complète** les cases blanches.



3 Léa recule de 2 en 2. **Complète** les cases blanches.



4 **Complète** les ronds.

