






Les grandes périodes de l'Histoire



La Préhistoire	L'Antiquité	Le Moyen Âge	L'Époque Moderne	L'Époque Contemporaine
				
Début : - 3 000 000 environ (Apparition des premiers Hommes)	Début : - 3 500 environ (découverte de l'écriture)	Début : 476 (Chute de l'Empire Romain)	Début : 1492 (Découverte de l'Amérique)	Début : 1789 (Révolution française)

-3500 s'écrit aussi 3500 **av. JC**. Cela signifie 3500 ans **avant Jésus-Christ**. La naissance de Jésus-Christ marque le point de départ (donc l'an 1) de notre calendrier. -3500 veut donc dire 3500 ans avant le début de notre calendrier (on compte alors à l'envers).




En histoire, on utilise aussi les chiffres Romains pour lire les siècles et le nom des rois. Les trois premiers symboles te permettront de les lire dans les documents d'histoire :

I = 1	II = 2	III = 3	IV = 4	V = 5
VI = 6	VII = 7	VIII = 8	IX = 9	X = 10
XI = 11	XII = 12	XIII = 13	XIV = 14	XV = 15
XVI = 16	XVII = 17	XVIII = 18	XIX = 19	XX = 20

❶ Entraîne-toi à lire le nom de ces rois :



Clovis au ^v^e siècle




Louis IX au ^{xiii}^e siècle



Louis XIV au ^{xviii}^e siècle

❷ Complète la frise en écrivant les siècles en chiffres romains :



❸ Entraîne-toi !

1492 appartient au^{ème} siècle.

496 appartient au^{ème} siècle.

2019 appartient au^{ème} siècle.

Ecris une date qui convient :

..... appartient au ^{XIV}^{ème} siècle.

..... appartient au ^{VI}^{ème} siècle.

..... appartient au ^{XI}^{ème} siècle.

..... appartient au ^{XIX}^{ème} siècle.

